

**Praktische Aufgabe 3:** Zweidimensionale Darstellungen, Parallelperspektiven, Freihandzeichnungen

Projekt: Einfamilienhaus März, Fundamente

Vorgabezeit: 60 min

Arbeitsvorlage: Blatt 1(2) Vorderansicht und Draufsicht  
Blatt 2(2) Raster für Isometrie

**Aufgabenstellung:**

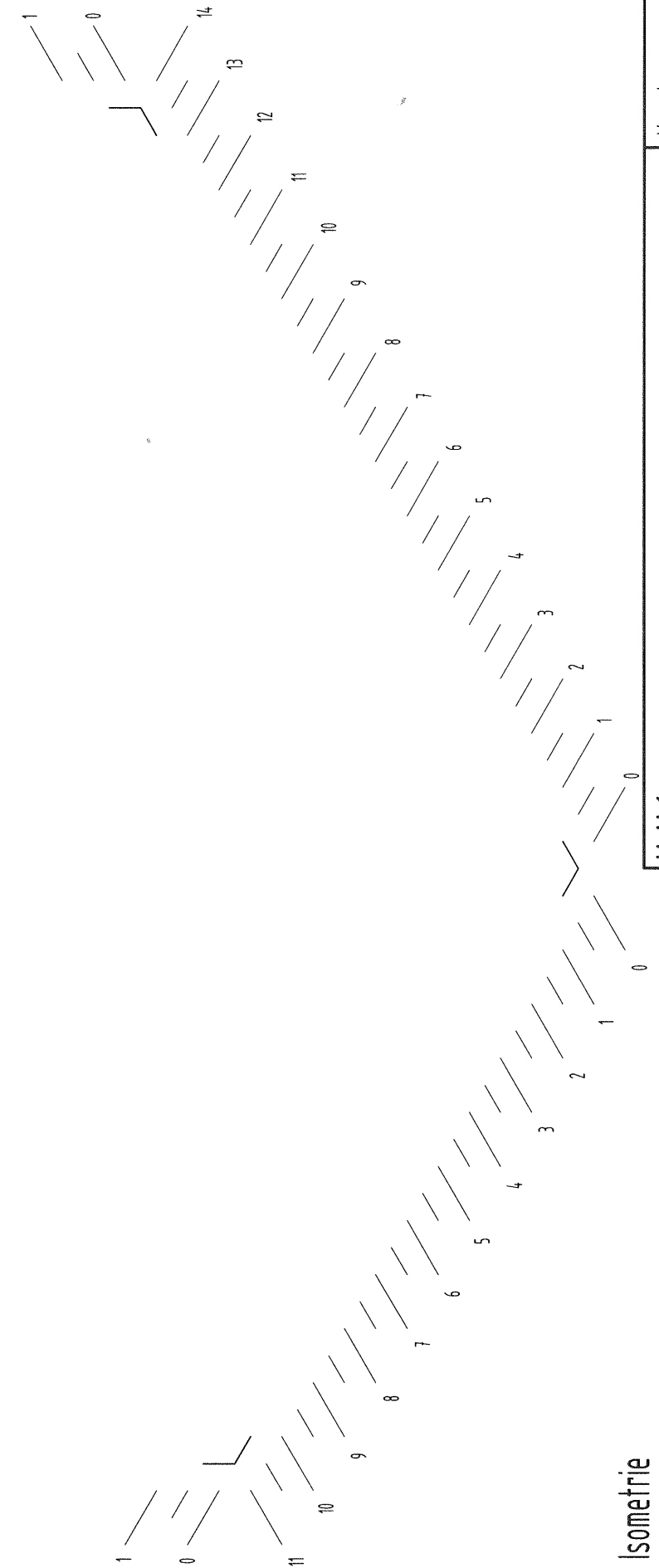
1. Konstruieren Sie die Seitenansicht von links der Fundamente auf der Arbeitsvorlage Blatt 1(2). Die verdeckten Körperkanten und die Projektionslinien sind darzustellen.
2. Skizzieren Sie die Fundamente freihand aus Blickrichtung A als Isometrie auf der Arbeitsvorlage Blatt 2(2). Die verdeckten Körperkanten sind darzustellen.

**Ausführung:**

Auf den Arbeitsvorlagen Blatt 1(2) und Blatt 2(2) in Bleistift

**Wichtig!**

Die Prüfungsnummer ist auf jedem Lösungsblatt im Schriftfeld einzutragen.



IHK Zwischenprüfung 2021

Maßstab

**Bauzeichner/-in**

Maßeinheit  
m, cm

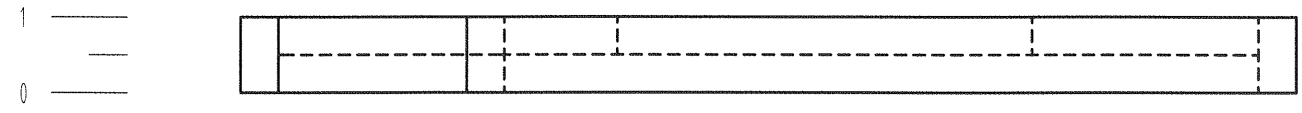
Praktische Aufgabe 3  
Einfamilienhaus März

Vorgabezeit: 60 min.


Blatt: 2(2)

Prüfungsnummer:

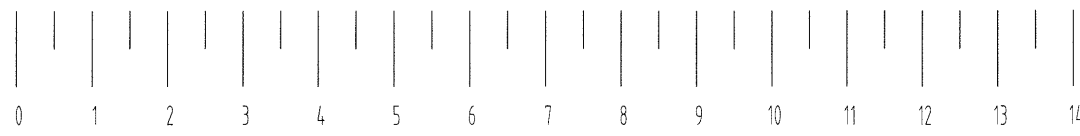
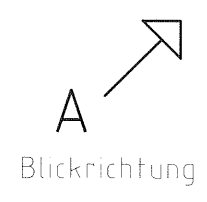
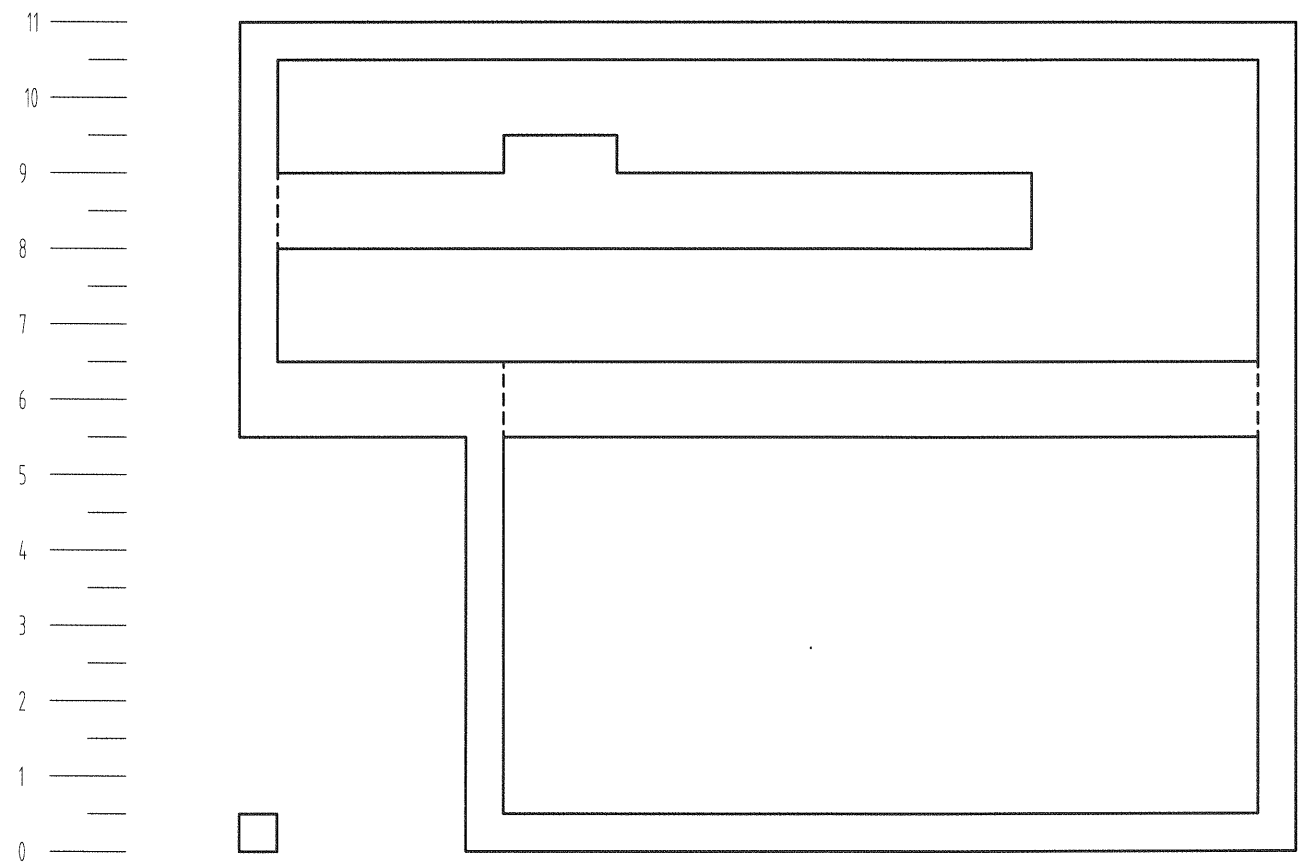
VORDERANSICHT



SEITENANSICHT VON LINKS



DRAUFSICHT



IHK Zwischenprüfung 2021		Vorgabezeit: 60 min.
Maßstab _____	Bauzeichner/-in	Blatt: 1(2)
Maßeinheit m, cm		Prüflingsnummer: